

Vad är hälften så mycket som ...?



20 _____

14 _____

2 _____

6 _____

18 _____

10 _____


8 _____

12 _____


0 _____

16 _____


Sara och Johan ska dela på smultronen.
Måla Saras smultron röda!



Sara får _____ smultron.



Sara får _____ smultron.



Sara får _____ smultron.